


Chapitre 2 : Habiter les métropoles Etude de cas : Habiter Chicago

ÉTUDE DE CAS

Habiter Chicago

Chicago est une grande ville des États-Unis. Ses habitants vivent dans des quartiers aux visages très différents.

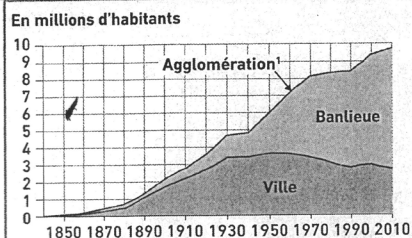
A Comment s'organise la ville de Chicago ?



1 Dans le centre-ville à Crown Fountain

Le centre-ville abrite le quartier des affaires (CBD). C'est aussi le lieu des loisirs (parcs, port de plaisance...) et de la vie culturelle pour les habitants (musées...).

2 L'évolution de la population de Chicago

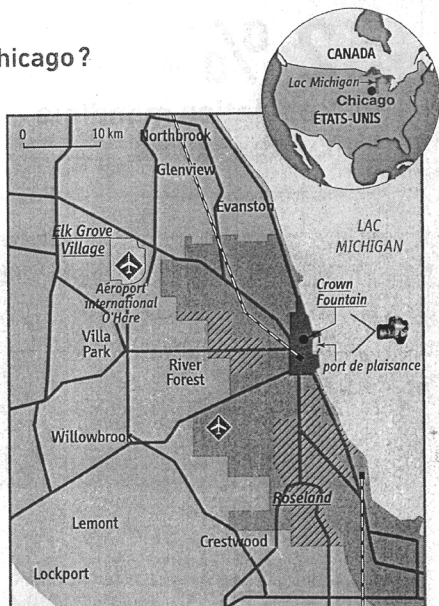


1. Agglomération = ville + banlieue Source : US Census, 2011.

La banlieue est formée d'immenses zones pavillonnaires (composées de maisons individuelles).

MON OBJECTIF

Je décris un paysage urbain et je réalise son croquis.



La ville de Chicago

- le CBD (quartier des affaires)
- quartiers d'habitation, entrepôts, usines en friches
- ghettos noirs

La banlieue de Chicago

- zone pavillonnaire
- Villa nom de Park banlieue
- Le port zone portuaire

Les transports

- voie ferrée
- autoroute
- aéroport
- champ de la photographie p. 249
- Elk Grove Village photographies de l'étude de cas

3 L'agglomération de Chicago

VOCABULAIRE

Une banlieue : les espaces habités qui entourent une grande ville et qui en dépendent.

Un quartier d'affaires : un quartier constitué de grandes tours où se concentrent les banques, les bureaux, les commerces de luxe et les grands hôtels. Aux États-Unis, il s'appelle CBD (central business district).



Vue de Chicago

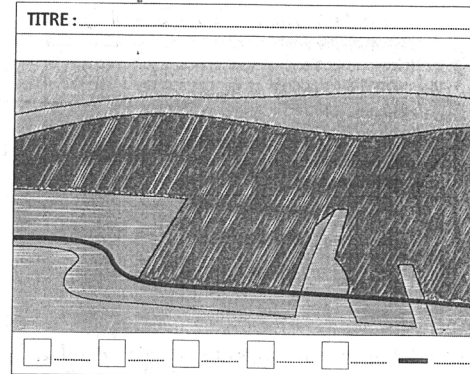
- 1 Lac Michigan
- 2 Port de plaisance
- 3 Voie d'accès au quartier des affaires
- 4 Parcs et promenades
- 5 Quartier des affaires (CBD)
- 6 Willis tower (527 m, le plus haut gratte-ciel du continent américain)
- 7 Quartiers d'habitation
- 8 Banlieues pavillonnaires (composée de maisons individuelles)

QUESTIONS

- Situez la ville de Chicago.
- Doc. 4** a. Quelle est la prise de vue de la photographie ?
b. Quels sont les trois types de quartiers visibles ? (voir aussi **Doc. 3**)
c. Comment ces différents quartiers sont-ils reliés entre eux ? (voir aussi **Doc. 3**)
- Doc. 2** Comment évolue la population de la ville de Chicago et celle de sa banlieue ? Comment l'expliquer ?
- Doc. 1, 4 et Doc. 5 p. 251** Qu'est-ce qui distingue l'habitat du centre-ville de celui des banlieues ? Montrez que ces deux quartiers n'ont pas la même utilité pour les habitants de Chicago.
- Complétez le croquis de paysage de Chicago.

MÉTHODE pour réaliser le croquis

- Je complète la légende en observant le document 4.
- Je donne un titre au croquis.



1. Situer la ville de Chicago.

-

2. Doc4.

a) Quelle est la prise de vue de la photographie ?

-

b) Quels sont les trois types de quartier visibles ? (voir aussi doc3)

-

c) Comment ces différents quartiers sont-ils reliés entre eux ? (voir aussi doc 3)

-

3. Doc2

a) Comment évolue la population de la ville de Chicago et celle de sa banlieue ?

-

b) Comment l'expliquer ?

-

4. Doc 1 et 4

a) Qu'est-ce qui distingue l'habitat du centre-ville de celui des banlieues ?

-

b) Montrez que ces deux quartiers n'ont pas la même utilité pour les habitants de Chicago.

-

5. Complétez le croquis de paysage de Chicago

Autoroute	Espaces verts	CBD
Port de plaisance	Ghettos	Banlieues pavillonnaires

TITRE : Croquis de paysage : l'agglomération de Chicago

